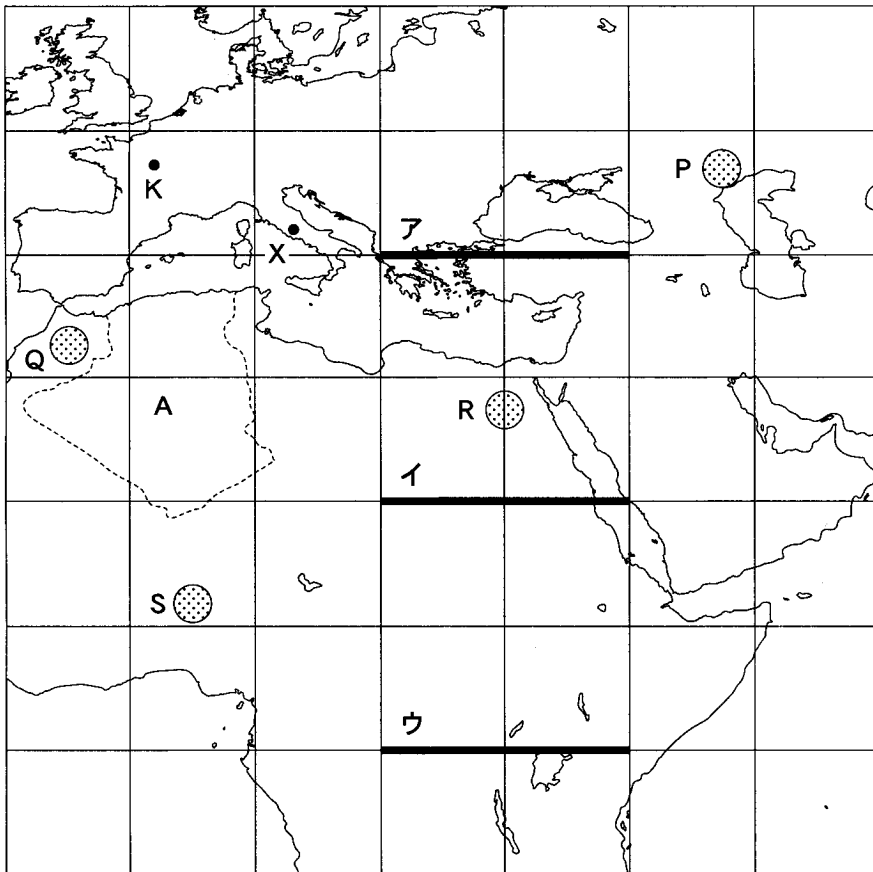


# 地 理 A

(解答番号  ~ )

第1問 地理の基礎的事項に関する次の問い(問1～8)に答えよ。(配点 16)

問1 次の図1中に引かれたア～ウの太線のうち、地球上の距離が最長のものと、およその距離との正しい組合せを、次ページの①～⑥のうちから一つ選べ。



緯線・経線は10°間隔。正距円筒図法による。

図 1

	①	②	③	④	⑤	⑥
距離が最長のもの	ア	ア	イ	イ	ウ	ウ
およその距離(km)	1,100	2,200	1,100	2,200	1,100	2,200

問 2 次の写真 1 は、図 1 中の A 国南部にある集落の景観を撮影したものである。

写真 1 から読み取れることを述べた文として最も適当なものを、下の①～④のうちから一つ選べ。

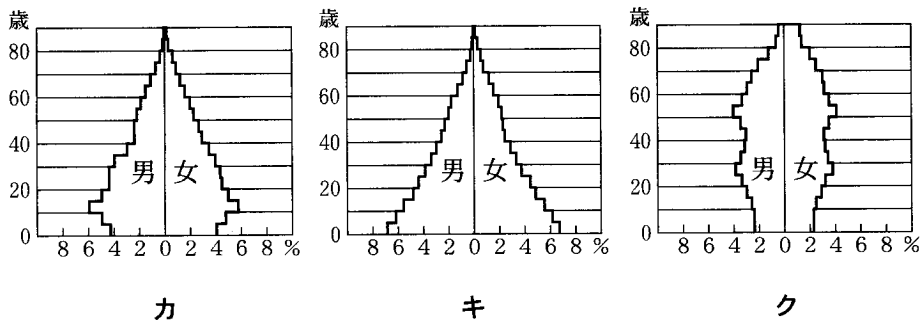


写真 1

- ① 家の窓は少なく、砂や強い日差しを避ける工夫がなされている。
- ② 集落のまわりにはゴムの木が植えられており、砂の侵入を防いでいる。
- ③ 家屋はレンガでつくられており、雨水をためる工夫がなされている。
- ④ 家の屋根は同一方向に傾斜しており、太陽光が効率的に利用されている。



問 7 次の図 2 中のカ～クは、1935 年、1960 年、2000 年のいずれかの年における日本の人口ピラミッドである。カ～クと年との正しい組合せを、下の①～⑥のうちから一つ選べ。 7



国勢調査により作成。

図 2

	①	②	③	④	⑤	⑥
1935 年	カ	カ	キ	キ	ク	ク
1960 年	キ	ク	カ	ク	カ	キ
2000 年	ク	キ	ク	カ	キ	カ

問 8 国家の領域や国境について述べた文として適当でないものを、次の①～④のうちから一つ選べ。 8

- ① 領空には、領土の上空だけでなく領海の上空も含まれるが、宇宙空間は含まれない。
- ② 排他的経済水域は、領海に含まれる海域であり、船舶の航行や上空の飛行には沿岸国の許可が必要である。
- ③ 自然的国境は、山脈や河川などの自然物を境界として利用した国境である。
- ④ 数理的国境は、目標となる 2 地点を結ぶ直線や緯線・経線を利用した国境である。

地理 A

第 2 問 国境を越えた現代世界の結びつきに関する次の問い(問 1～6)に答えよ。

(配点 21)

問 1 次の表 1 は、2004 年 10 月における、成田空港からの直行便の主な行き先を航空便数ごとにまとめたものである。また、表 1 中の A～C は、1 週当たりの便数(片道)が 29 便以下、30～49 便、70 便以上のいずれかである。A～C と便数との正しい組合せを、下の①～⑥のうちから一つ選べ。 9

表 1

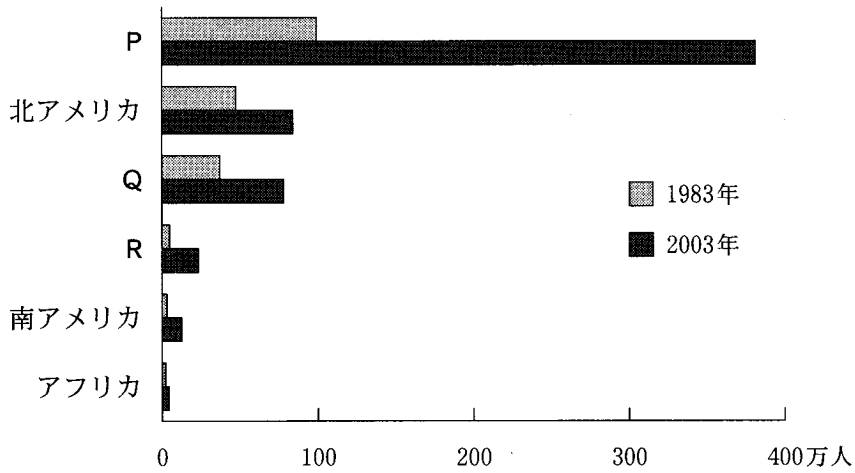
1 週当たりの便数(片道)	主な行き先
50～69 便	バンコク、ペキン、ホノルル、ロサンゼルス
A	サイパン、シドニー、プサン、フランクフルト
B	グアム、ニューヨーク、パリ、ロンドン
C	シャンハイ、ソウル、タイペイ、ホンコン

『JTB 時刻表』により作成。

	29 便以下	30～49 便	70 便以上
①	A	B	C
②	A	C	B
③	B	A	C
④	B	C	A
⑤	C	A	B
⑥	C	B	A

問 2 国際化の進展にともない、日本を訪れる外国人の数は増加している。次の図 1 は、1983 年と 2003 年の外国人入国者数を地域別に示したものであり、P～R は、アジア、オセアニア、ヨーロッパ\*のいずれかである。P～R と地域名との正しい組合せを、下の①～⑥のうちから一つ選べ。 10

\*旧ソ連、CIS(独立国家共同体)を含む。



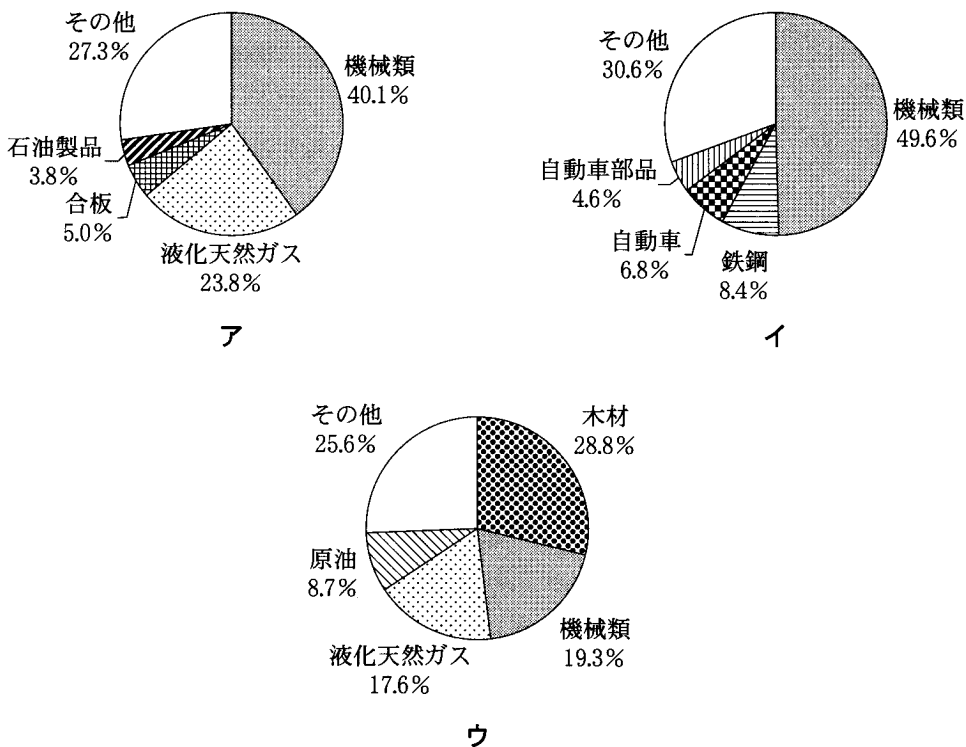
法務省の資料により作成。

図 1

	P	Q	R
①	ア ジ ア	オセアニア	ヨーロッパ
②	ア ジ ア	ヨーロッパ	オセアニア
③	オセアニア	ア ジ ア	ヨーロッパ
④	オセアニア	ヨーロッパ	ア ジ ア
⑤	ヨーロッパ	ア ジ ア	オセアニア
⑥	ヨーロッパ	オセアニア	ア ジ ア

地理 A

問 3 次の図 2 は、日本とマレーシアとの間の貿易額上位 4 品目の構成比を示したものである。図 2 中のア～ウは、マレーシアから日本への輸出(1993 年)、マレーシアから日本への輸出(2003 年)、日本からマレーシアへの輸出(2003 年)のいずれかである。ア～ウと輸出国・輸出相手国(年)との正しい組合せを、下の①～⑥のうちから一つ選べ。 11

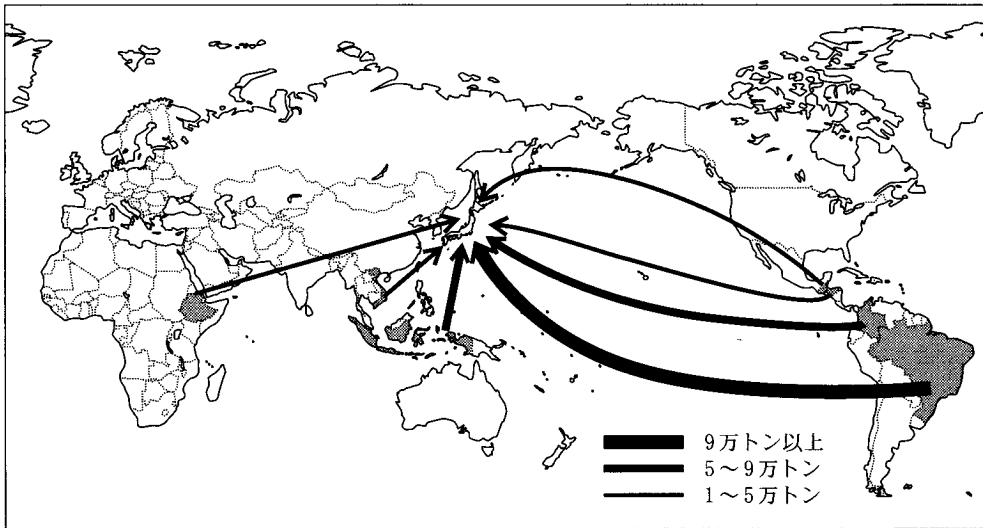


『日本国勢図会』により作成。

図 2

	①	②	③	④	⑤	⑥
マレーシアから日本への輸出(1993 年)	ア	ア	イ	イ	ウ	ウ
マレーシアから日本への輸出(2003 年)	イ	ウ	ア	ウ	ア	イ
日本からマレーシアへの輸出(2003 年)	ウ	イ	ウ	ア	イ	ア

問 4 次の図3は、ある商品作物について、2002年の日本への輸出量が1万トンを超える上位7か国を示したものである。この商品作物に該当するものを、下の①～④のうちから一つ選べ。 12



『アグロトレード・ハンドブック』により作成。

図 3

- ① オレンジ      ② カカオ豆      ③ コーヒー豆      ④ 茶



地理 A

問 5 次の図 4 は、軍事、資源、貿易の面で共通の利益があることから結びついた国家群を濃く示したものであり、カ〜クは、NAFTA、NATO、OAPEC のいずれかである。カ〜クと国家群結合の種類との組合せのうち、NATO と OAPEC に該当するものを、次ページの①〜⑨のうちからそれぞれ一つずつ選び、NATO については  に、OAPEC については  に答えよ。

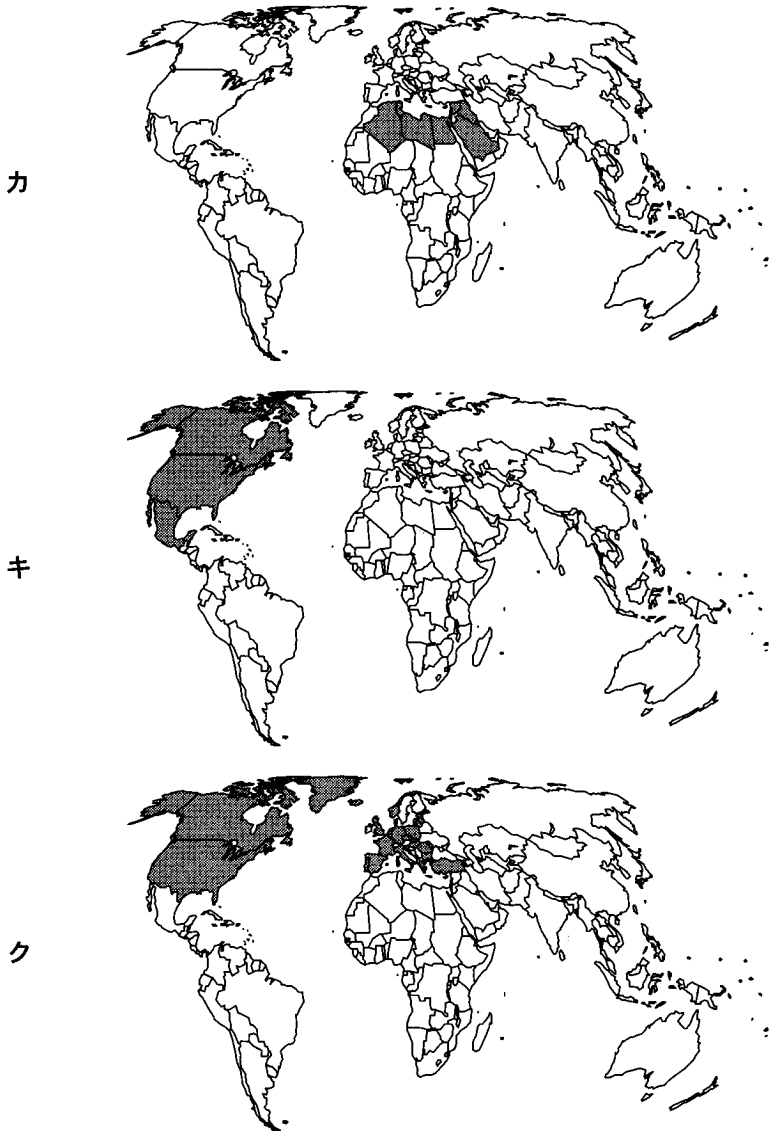


図 4

	①	②	③	④	⑤	⑥	⑦	⑧	⑨
国家群結合の種類	軍事	軍事	軍事	資源	資源	資源	貿易	貿易	貿易
地 図	カ	キ	ク	カ	キ	ク	カ	キ	ク

問 6 現代世界の通信手段の発達について述べた文として**適当でないもの**を、次の

①～④のうちから一つ選べ。 15

- ① 光海底ケーブルは、大量の情報を安定して送受信することができるため、コンピュータによる通信の発展に役立っている。
- ② 情報通信技術は、地域間で普及の度合いに大きな格差があり、その克服が国際的な課題になっている。
- ③ 携帯電話は、北ヨーロッパ諸国においては早くから普及し、お金の振込みなどにも利用されている。
- ④ インターネットは、通信衛星の利用が始まった1960年代のアメリカ合衆国では、すでに家庭にまで普及していた。

**第3問** 次の図1は、1932年と2000・2002年に発行された京都市市街地の北西部を表した2万5千分の1地形図(原寸、一部改変)である。京都に住むタケシさんとヒロミさんが交わした下の会話文を読み、歴史的町並みに関する下の問い(問1～6)に答えよ。(配点 21)




図 1

ヒロミ 「京都の町並みをレポートの題材にしたいので、㉑ 京都の市街地北西部の新旧の地形図を用意したの。どこかで待ち合せて、一緒に調べようよ」

タケシ 「それじゃ、警察署近くの交差点を㉒ 待ち合せ場所にしよう。広い道路と細い道路もあって複雑な交差点だけど、近くには境内の木々も見えるよ」

二人は現地調査を行った後で、レポートの題材について再び話し合った。

ヒロミ 「歩いてみると、大学がいくつかあるし、近くに住んでいる㉓学生を多く見かけたよね。古い町並みのところで聞こえた、機織りの音は印象的だったね」

タケシ 「戦前から同じところで操業している小さい西陣織の㉔工場だね。広い道に面したところに㉕高層住宅が多かったけど、あれは建て込まないための工夫らしいね」

ヒロミ 「私は㉖京都と他の都市の歴史的な町並みを保全する地区を比較してみるね」

タケシ 「ぼくは海外の都市と比較して、㉗中心市街地にある伝統的住宅の特徴と京都のように特徴的な㉘街路区画について調べてみるよ」

問 1 下線部㉔に関して、図 1 から読み取れることを述べた文として正しいものを、次の①～⑥のうちから二つ選べ。ただし、解答の順序は問わない。

16

17

- ① 図の西部の田として利用されていたところに、市街地が形成された。
- ② 図の西部の鉄道は延長され、「きたのはくばいちょう」駅が設置された。
- ③ 図の西部の都市開発にともない、二條天皇陵は西ににじょう移された。
- ④ 図の東部にあった路面電車は、すべて廃止された。
- ⑤ 図の北西部の荒地のところに、新たに寺院が集められた。
- ⑥ 図の北西部の大規模な浄水場の跡地に、大学が建設された。

問 2 図 1 中の地点 A～D のうち下線部㉕に該当するものを、次の①～④のうちから一つ選べ。

18

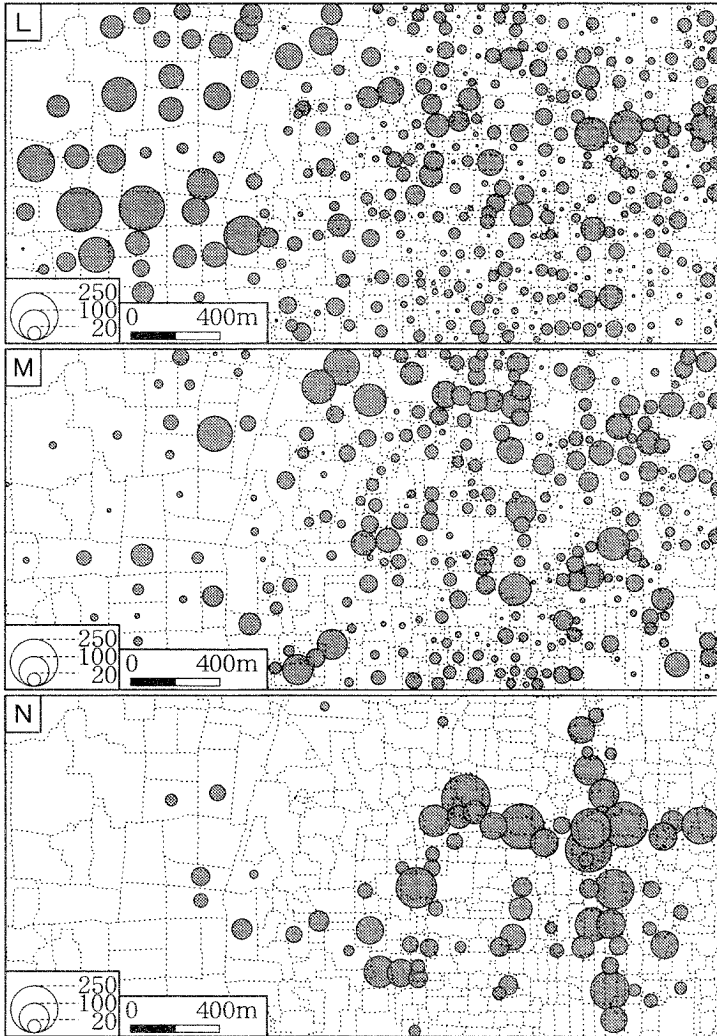
- ① A
- ② B
- ③ C
- ④ D

地理 A

問 3 下線部㉔～㉖に関して、次の図 2 中の L～N は、図 1 の範囲について製造業事業所従業者数、大学生・大学院生数、6 階建て以上の共同住宅に住む世帯数のいずれかの指標を小地域\*別に集計したものである。L～N と指標との正しい組合せを、次ページの①～⑥のうちから一つ選べ。

19

\*国勢調査や事業所・企業統計調査で使われる統計地区単位。



統計年次は、大学生・大学院生数、6 階建て以上の共同住宅に住む世帯数が 2000 年、製造業事業所従業者数が 2001 年。  
国勢調査と事業所・企業統計調査により作成。

図 2

	①	②	③	④	⑤	⑥
製造業事業所従業者数	L	L	M	M	N	N
大学生・大学院生数	M	N	L	N	L	M
6階建て以上の共同住宅に住む世帯数	N	M	N	L	M	L

問 4 下線部①に関して、次の写真 1 中の P～R は、青森県黒石市、京都市東山区、長崎県長崎市のいずれかの町並みを撮影したものである。P～R と都市名との正しい組合せを、次ページの①～⑥のうちから一つ選べ。 20



P 高台の洋風住宅群



Q 参道沿いの町家



R 通りに面したひさしのある住宅

写真 1

地理 A

	①	②	③	④	⑤	⑥
青森県黒石市	P	P	Q	Q	R	R
京都市東山区	Q	R	P	R	P	Q
長崎県長崎市	R	Q	R	P	Q	P

問 5 下線部㉔に関して、次の①～④の文は、京都、シンガポール、ソウル、ペキン(北京)のいずれかの中心市街地にある伝統的住宅の特徴について説明したものである。ソウルに該当する文として最も適当なものを、次の①～④のうちから一つ選べ。 21

- ① 中心市街地にある伝統的な住宅は、敷地の形状が細長いものが多く、採光と通風のために小さな中庭が設けられている。
- ② 植民地時代に建設された伝統的な建物は、住宅と店舗の併用が多く、日差しや雨を避けるために、街路に面するところがアーケードで覆おおわれている。
- ③ 中庭を四つの建物で囲む伝統的な住宅は、近年では中庭の部分にも建て増しされ、一つの建物のなかに数世帯が暮らす長屋のようになっている。
- ④ 伝統的な住宅では、冬季の厳しい寒さを防ぐため、ちゅうぼう 厨房のかまどからの煙を床下に導く設備を取りつけて、部屋を暖める工夫がある。

問 6 下線部⑤に関して、次の図 3 中の X～Z の地図は、アムステルダム、シーアン(西安)、パリのいずれかの中心市街地を示したものである。X～Z と都市名との正しい組合せを、下の①～⑥のうちから一つ選べ。 22

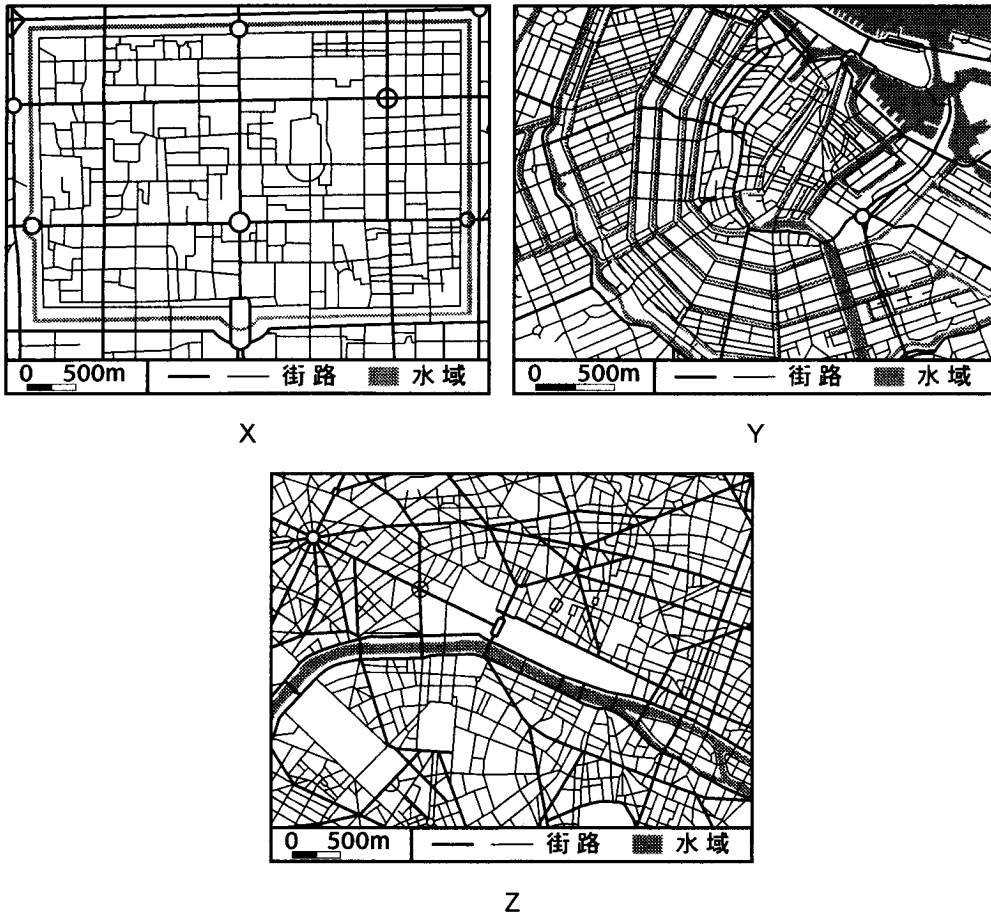


図 3

	①	②	③	④	⑤	⑥
アムステルダム	X	X	Y	Y	Z	Z
シーアン(西安)	Y	Z	X	Z	X	Y
パ リ	Z	Y	Z	X	Y	X





	ア	イ	ウ
①	オリーブ	小麦	ブドウ
②	オリーブ	ブドウ	小麦
③	小麦	オリーブ	ブドウ
④	小麦	ブドウ	オリーブ
⑤	ブドウ	オリーブ	小麦
⑥	ブドウ	小麦	オリーブ

問 2 ヨーロッパの食文化は、国によって多様である。次の表 1 中の①～④は、魚介類、チーズ、茶、トマトのいずれかの 1 人当たり消費量について、ヨーロッパ\*の上位 5 か国を示したものである。魚介類の 1 人当たり消費量に該当するものを、表 1 中の①～④のうちから一つ選べ。

24

\*CIS(独立国家共同体)を除く。

表 1

順位	①	②	③	④
1 位	アイスランド	アイルランド	イタリア	フランス
2 位	ポルトガル	マルタ	ポルトガル	ギリシャ
3 位	ノルウェー	イギリス	アルバニア	デンマーク
4 位	スペイン	オランダ	マケドニア	イタリア
5 位	マルタ	ポーランド	マルタ	オーストリア

統計年次は 2001 年。

FAO の資料などにより作成。

## 地理 A

問 3 次の①～⑥の文は、図 1 中の A～F のいずれかの国\*の言語と宗教の特徴について述べたものである。図 1 中の B 国と F 国の特徴を述べた文として最も適当なものを、次の①～⑥のうちからそれぞれ一つずつ選び、B 国については  に、F 国については  に答えよ。

\*図 1 の範囲外にある各国の領土は含まない。

- ① 主にウラル系の言語が話され、カトリックやプロテスタントが信仰されている。
- ② 主にゲルマン系の言語が話され、北部では主にプロテスタント、南部ではカトリックが信仰されている。
- ③ 主にゲルマン系の言語が話され、ほぼ全域でプロテスタントが信仰されている。
- ④ 主にスラブ系の言語が話され、ほぼ全域でカトリックが信仰されている。
- ⑤ 主にスラブ系の言語が話され、イスラム教や東方正教が信仰されている。
- ⑥ 主にラテン系の言語が話され、ほぼ全域でカトリックが信仰されている。

問 4 次の写真1は、図1中のK国の首都にみられる道路標識を示したものであり、一部の標識では、同じ場所を示す地名が二つの言語で表記されている。写真1中の異なる言語で併記された標識について説明した文として最も適切なものを、下の①～④のうちから一つ選べ。 27




写真 1

- ① 古代の歴史的地名を保護するために、新旧の地名が併記されている。
- ② 国内に住む母語が異なる人々のために、地名が二つの言語で併記されている。
- ③ 国際化にともなって外国語の学習を推進するために、外国語が併記されている。
- ④ 急増している外国人観光客のために、外国語の併記が推進されている。

地理 A


問 5 ヨーロッパの国々の中には、国家の歴史や建国の理念、自然環境をもとにデザインされた国章を制定している国もある。次の図 2 中のカ〜クは、アイスランド、バチカン、ポルトガルのいずれかの国章とその説明文である。カ〜クと国名との正しい組合せを、次ページの①〜⑥のうちから一つ選べ。 28

カ




中央の二つの鍵は、使徒ペテロがイエスから授かったキリスト代理者の印を示し、法王の力を象徴している。

キ



中央の盾は三色で塗り分けられ、山地を青、溶岩を赤、冰山を白で表し、台座はこの国の海岸線を表している。

ク



盾の背後の天球儀は、航海術と海外航路の発見を示したものである。

図 2

	カ	キ	ク
①	アイスランド	バチカン	ポルトガル
②	アイスランド	ポルトガル	バチカン
③	バチカン	アイスランド	ポルトガル
④	バチカン	ポルトガル	アイスランド
⑤	ポルトガル	アイスランド	バチカン
⑥	ポルトガル	バチカン	アイスランド

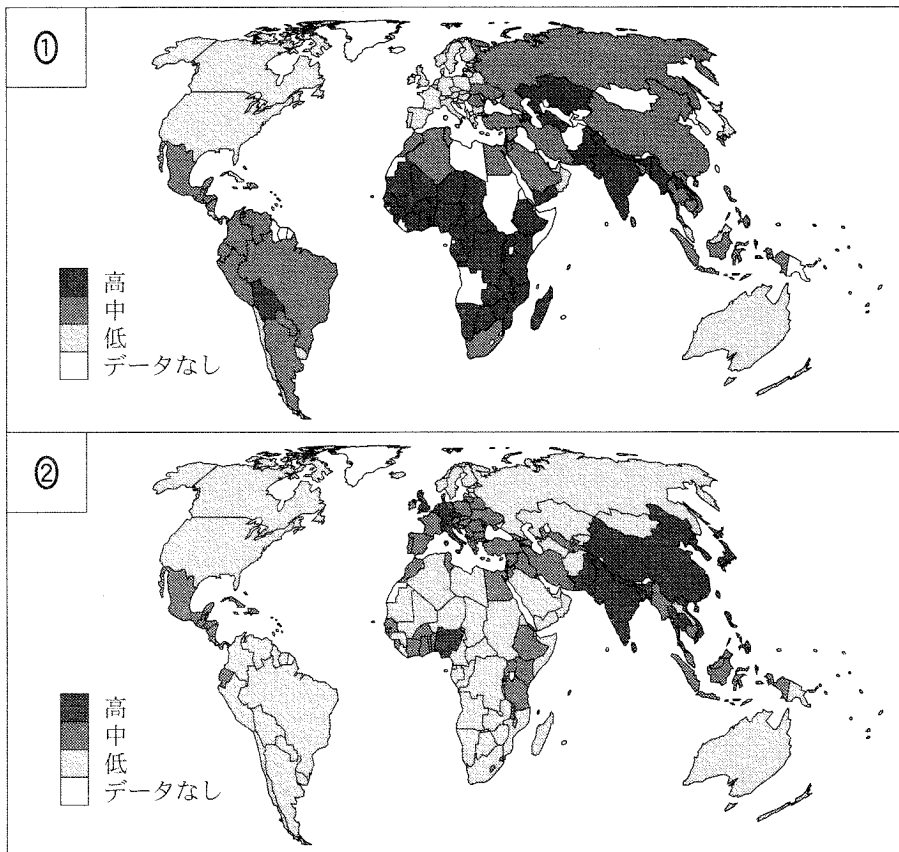
問 6 ヨーロッパでは、交通の発達によって人や物の流動が活発化している。オランダの交通について述べた文として**適当でないもの**を、次の①～④のうちから一つ選べ。 29

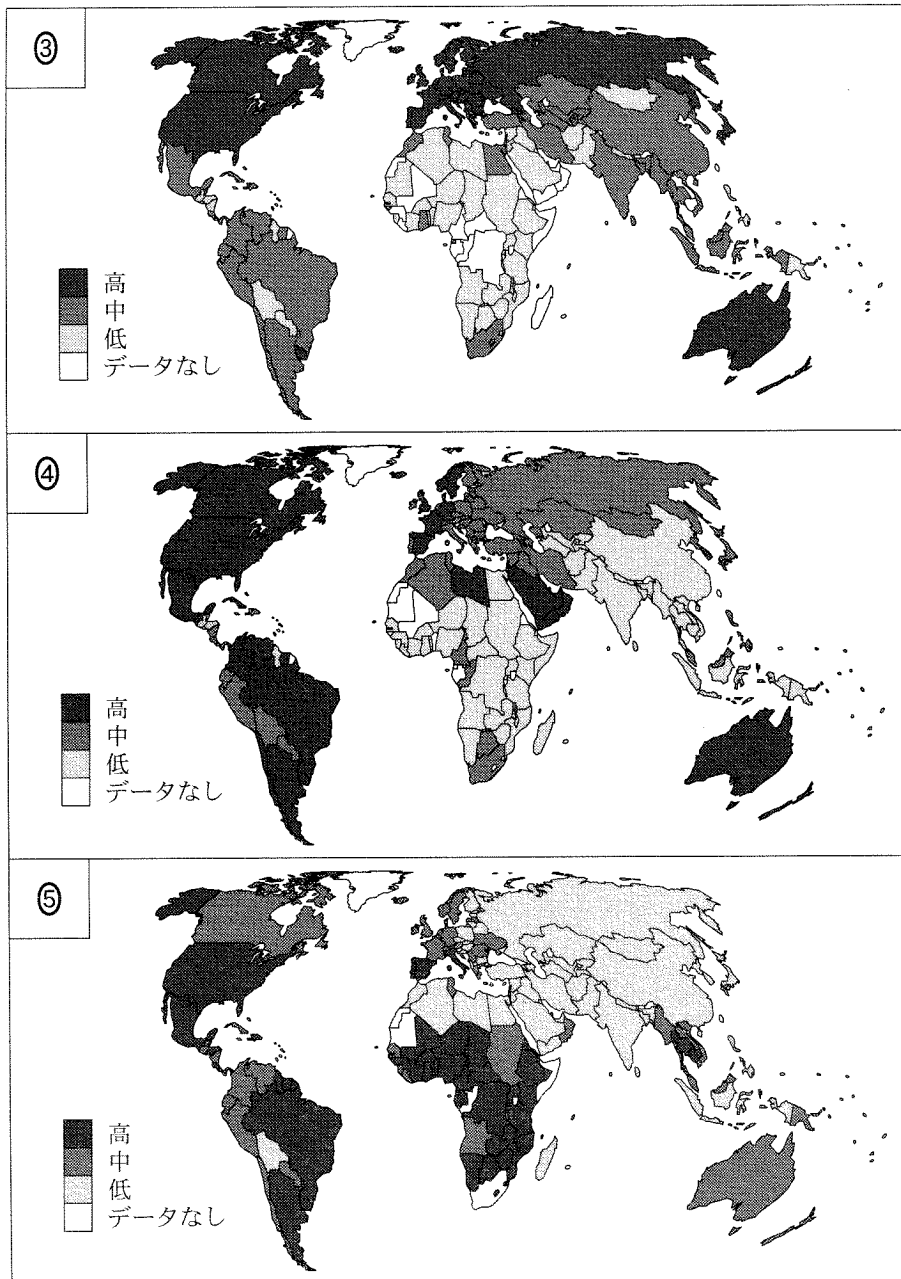
- ① ユーロポートはヨーロッパ最大の港であり、ヨーロッパを訪れる多くの観光客の玄関口となっている。
- ② アムステルダム中央駅では、ヨーロッパの主要都市間を結ぶ多くの国際列車が発着している。
- ③ アムステルダムの国際空港は、国外の主要都市への航空便数が多く、旅客数・貨物取扱量ともにヨーロッパ有数の大規模な空港である。
- ④ 隣接する国々と高速道路で結ばれており、自動車での自由な往来が可能である。

地理A

**第5問** 人や物の交流が活発になり経済活動がグローバル化する一方で、地域間の格差は顕著になり、国境を越えた問題も発生している。現代の地球的課題やそれらへの取組みに関する次の問い(問1～6)に答えよ。(配点 21)

問1 次の図1中の①～⑤は、世界の国・地域におけるエイズ罹患率、人口密度、都市人口率、乳児死亡率、老年人口率のいずれかについて、その高低を示したものである。都市人口率と老年人口率に該当するものを、図1中の①～⑤のうちからそれぞれ一つずつ選び、都市人口率については  に、老年人口率については  に答えよ。





統計年次は、エイズ罹患率が1993～2000年、人口密度と都市人口率が2003年、乳児死亡率が2002年、老年人口率が1988～2003年。  
 『世界国勢図会』などにより作成。

図 1



## 地理 A

問 2 次の表 1 は、穀物自給率、1人1日当たり供給栄養量、輸出額に占める食料品の割合を示したものであり、①～④はオーストラリア、キューバ、タンザニア、マレーシアのいずれかである。キューバに該当するものを、表 1 中の①～④のうちから一つ選べ。 32

表 1

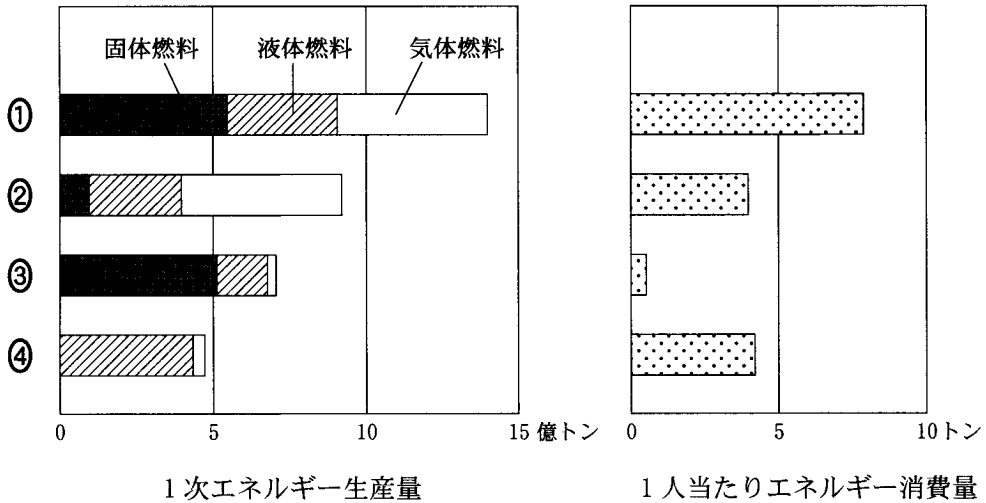
	穀物自給率 (%)	1人1日当たり 供給栄養量 (kcal)	輸出額に占める 食料品の割合 (%)
①	272	3,126	19.3
②	81	1,997	68.6
③	25	2,927	2.0
④	23	2,643	49.9

統計年次は 2001 年。  
『世界国勢図会』などにより作成。

問 3 次の図2は、1次エネルギー生産量の上位4か国における固体燃料、液体燃料、気体燃料の生産量と、1人当たりエネルギー消費量を示したものであり、①～④はアメリカ合衆国、サウジアラビア、中国\*、ロシアのいずれかである。ロシアに該当するものを、図2中の①～④のうちから一つ選べ。

33

\*台湾を含まない。



固体燃料は石炭、褐炭、泥炭、油頁岩<sup>ゆけつがん</sup>を、液体燃料は原油と液化天然ガスを、気体燃料は天然ガスを石油換算して示している。

統計年次は1999年。

『国際連合世界統計年鑑』により作成。

図 2

## 地理A

問 4 開発と環境保全について述べた文として最も適当なものを、次の①～④のうちから一つ選べ。 34

- ① 生物の多様性を保つ干潟や湿地の役割が見直され、いくつかの干潟や湿地では、ロンドン条約に基づいて保全が進められている。
- ② モントリオール議定書で提唱された「持続可能な開発」には、国際機関のみならず、きめ細かな支援をする NGO(非政府組織)も貢献している。
- ③ 京都議定書では、日本やアメリカ合衆国などの先進国だけでなく、発展途上国も二酸化炭素削減の数値目標を設定している。
- ④ 国連海洋法条約では、海洋資源に関する国際的な問題を解決するために、深海底の資源開発や沿岸国の資源利用に関する原則が定められている。

問 5 日本の国際協力について述べた文として適当でないものを、次の①～④のうちから一つ選べ。 35

- ① 西アジアや南アジアで発生した紛争の解決をはかり、難民を積極的に受け入れ職業訓練を行っている。
- ② 洪水や津波などの自然災害に関する日本の知識や技術を、発展途上国の災害予測や警戒システムの整備にいかしている。
- ③ カンボジアの遺跡の保存・修復に対して、経済的な援助を行うとともに、現地の人々に修復技術を伝えるなど、人材育成にも力を注いでいる。
- ④ JICA(国際協力機構)は、発展途上国からの要請を受け、技術者のほか柔道などのスポーツ指導員も派遣している。

問 6 次のア～ウの文は、アフリカ、オセアニア、ヨーロッパ\*のいずれかの地域において登録されている世界遺産について述べたものである。ア～ウと地域名との正しい組合せを、下の①～⑥のうちから一つ選べ。 36

\*CIS(独立国家共同体)を含む。

- ア 変化に富んだ自然景観や、独自に進化した固有の動植物の重要性が認められて登録された自然遺産が多い。
- イ 保護・管理をする社会・経済的条件が整っていないため、この地域には破壊や消滅の危機にさらされている世界遺産が多い。
- ウ 登録件数は世界全体の半数近くを占めており、その大部分は城郭や寺院などの文化遺産である。

	ア	イ	ウ
①	アフリカ	オセアニア	ヨーロッパ
②	アフリカ	ヨーロッパ	オセアニア
③	オセアニア	アフリカ	ヨーロッパ
④	オセアニア	ヨーロッパ	アフリカ
⑤	ヨーロッパ	アフリカ	オセアニア
⑥	ヨーロッパ	オセアニア	アフリカ

問題と解答は、独立行政法人 大学入試センターホームページより転載しています。  
ただし、著作権上の都合により、一部の問題・画像を省略しています。

日本一の学校情報



<http://www.js88.com>

インターネット塾・予備校情報サイト



<http://jyuku.js88.com>