

世界史 A

(解答番号 ~)

第1問 歴史上の人や物の移動について述べた次の文章A～Cを読み、下の問い(問1～11)に答えよ。(配点 34)

A 2011年、長崎県鷹島沖の海底で、約700年前の①船が原形をとどめた姿で発見され、話題となった。この船は、②元と高麗の連合軍が日本を攻める際に使用したものであったが、元と日本との間には平和的な貿易を目的とする船も数多く往来した。1976年、③朝鮮半島南西部の新安沖で発見された沈没船は、慶元(現在の寧波)を出発して日本に向かった貿易船と見られている。海底からは、中国産の陶磁器、④銅銭、元の年号や日本の寺社名を記した木簡等、数万点に上る遺物が引き揚げられた。

問1 下線部①に関連して、中国商人が主に利用した船の種類と、その船を示す次の図aまたは図bとの組合せとして正しいものを、下の①～④のうちから一つ選べ。



a



b

① ダウ船 — a

② ダウ船 — b

③ ジャンク船 — a

④ ジャンク船 — b

世界史A

問 2 下線部②の時代にアフリカやユーラシア大陸を広く旅した人の名として正しいものを、次の①～④のうちから一つ選べ。

- ① フランシスコ＝ザビエル
- ② リヴィングストン
- ③ アギナルド
- ④ イブン＝バットウータ(イブン＝バトウータ)

問 3 下線部③の地域の歴史について述べた文として正しいものを、次の①～④のうちから一つ選べ。

- ① 9世紀後半に、百済が滅亡した。
- ② 12世紀前半に、高麗が建国された。
- ③ 19世紀後半に、朝鮮(李朝)は、国号を大韓帝国と改めた。
- ④ 20世紀前半に、南北首脳会談が開かれた。

問 4 下線部④に関連して、世界史上の通貨について述べた文として誤っているものを、次の①～④のうちから一つ選べ。

- ① 秦の始皇帝は、貨幣の統一を進めた。
- ② 唐は、交鈔を発行した。
- ③ 第一次世界大戦後に、ドイツでは激しいインフレーションが起こった。
- ④ 1990年代に、アジア通貨危機が起こった。

世界史 A

B アメリカ大陸に進出したスペイン人は、16世紀に、⑤先住民を使役して鉱山を開発し、その産出物をヨーロッパに持ち帰った。彼らは、エンコミエンダ制を導入して先住民に移住を強制し、労働や貢納を課した。伝染病や過酷な労働で先住民の死亡率が高まると、⑥アフリカから黒人奴隷が運ばれてきた。その後、西ヨーロッパ諸国は、広範で多様な市場と生産システムを作り出し、アフリカ西海岸と⑦カリブ海域・北アメリカを結び付けた。

問 5 下線部⑤に関連して、先住民の諸文明について述べた次の文 a と b の正誤の組合せとして正しいものを、下の①～④のうちから一つ選べ。

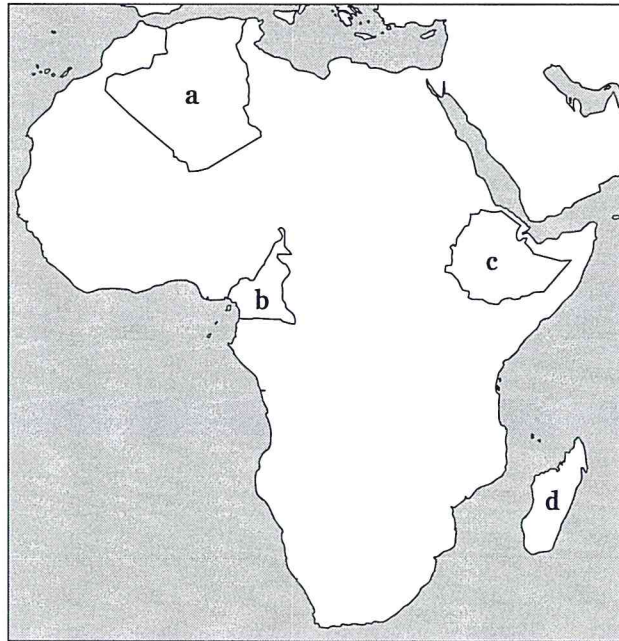
5

- a アステカ王国では、鉄器が使用されていた。
- b インカ帝国では、キープ(結縄)が使用されていた。

- ① a — 正 b — 正
- ② a — 正 b — 誤
- ③ a — 誤 b — 正
- ④ a — 誤 b — 誤

世界史A

問 6 下線部⑥の地域は、第一次世界大戦までには、ほぼ全土が植民地化されていた。次の地図中に示した a ~ d のうち、この時期に独立を保った国の位置として正しいものを、下の①~④のうちから一つ選べ。



- ① a ② b ③ c ④ d

問 7 下線部⑦に関連して、キューバ危機が起こったときのアメリカ合衆国大統領の名として正しいものを、次の①~④のうちから一つ選べ。

- ① サッチャー
② レーガン
③ ヒンデンブルク
④ ケネディ

世界史A

C イギリス本国から⑧オーストラリアへの移民は、当初は流刑者を中心としていたが、19世紀半ばからは自由移民を中心とする大規模なものとなった。また、1801年にイギリスに併合されたアイルランドからも、海外への多数の移民が生じた。特に主食である⑨ジャガイモの病気を一因とする「大飢饉」が1840年代にアイルランドを襲うと、⑩アメリカ合衆国への移民が増大した(下図参照)。しかし20世紀後半になると、今度はアジア、カリブ諸島、⑪アフリカなどからイギリスへの移民が増加した。

画像

問 8 下線部⑧に関連して、オセアニアのイギリス植民地における先住民の歴史について述べた文として正しいものを、次の①～④のうちから一つ選べ。

8

- ① ニュージーランドの先住民は、マオリ(マオリ人)である。
- ② 黒人奴隷が蜂起し、ハイチ(ハイティ)共和国が成立した。
- ③ アボリジニ(アボリジニー)が、タンジマートを進めた。
- ④ オーストラリアでは、先住民へのアパルトヘイト政策が行われた。

世界史 A

問 9 下線部⑨の作物の原産地と、その原産地を同じくする作物の組合せとして正しいものを、次の①～④のうちから一つ選べ。 9

- ① アメリカ大陸 — バナナ
- ② アメリカ大陸 — トマト
- ③ アフリカ大陸 — バナナ
- ④ アフリカ大陸 — トマト

問10 下線部⑩に関連して、アメリカ合衆国における移民の歴史について述べた次の文 a と b の正誤の組合せとして正しいものを、下の①～④のうちから一つ選べ。 10

- a 1920 年代の移民法によって、移民受け入れ制限が全廃された。
- b 強制移住法により、移民はミシシッピ川以西の居留地に移された。

- ① a — 正 b — 正
- ② a — 正 b — 誤
- ③ a — 誤 b — 正
- ④ a — 誤 b — 誤

問11 下線部⑪に関連して、第二次世界大戦後のアフリカ諸国の歴史について述べた文として誤っているものを、次の①～④のうちから一つ選べ。 11

- ① フランスが、スエズ運河の国有化を宣言した。
- ② 多くの国が独立した 1960 年は、「アフリカの年」と呼ばれた。
- ③ 冷戦の時期に、アフリカ統一機構が成立した。
- ④ コンゴでは、独立後に内戦が生じた。

世界史A

第2問 世界史上の戦争と戦後処理について述べた次の文章A～Cを読み、下の問い(問1～11)に答えよ。(配点 33)

A 戦争は、しばしば①労働力や財貨の獲得を目的として行われた。そのため、敵勢力を壊滅させることは必ずしも目的とはされなかった。例えば、漢を破って貢納を課した のように、中央ユーラシアの遊牧国家は、定住農耕地域の国家を滅ぼすよりも、有利な条件で講和して貢納させることが普通だった。中世ヨーロッパでも、戦争は一定の②領土の獲得や捕虜の身代金の入手で終わることが多かった。しかし、近世以降、③戦争の様式は変容していき、近代には、敵軍のみならず敵の国力全体に打撃を与えることが重視されるようになった。

問1 文章中の空欄 に入れる語として正しいものを、次の①～④のうちから一つ選べ。

- ① パルティア
- ② スキタイ
- ③ 匈奴
- ④ 吐蕃

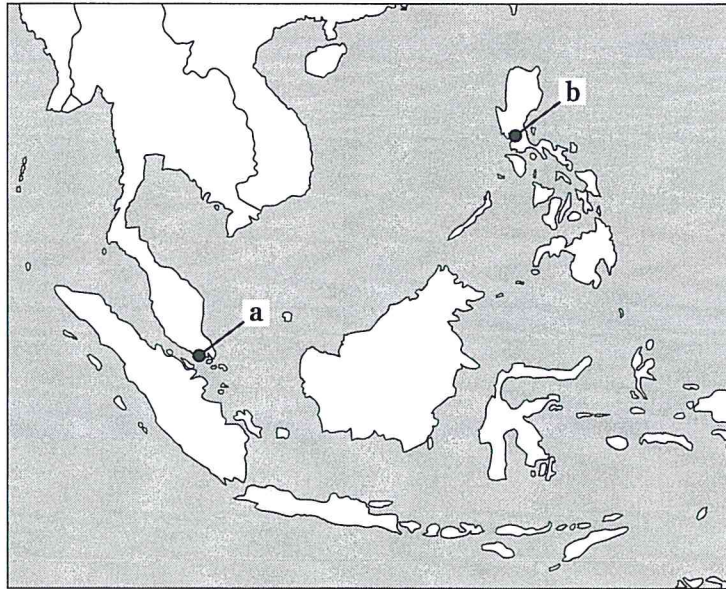
問2 下線部①について述べた次の文 a と b の正誤の組合せとして正しいものを、下の①～④のうちから一つ選べ。

- a 苦力(クーリー)と呼ばれる中国人労働者が、海外で労働に従事した。
- b 第一次世界大戦中、労働力不足を補うため、女性も軍需工場で働いた。

- ① a — 正 b — 正
- ② a — 正 b — 誤
- ③ a — 誤 b — 正
- ④ a — 誤 b — 誤

世界史A

問 3 下線部②に関連して、イギリスの東南アジアにおける植民地拠点の名と、その位置を示す次の地図中の a または b との組合せとして正しいものを、下の①～④のうちから一つ選べ。 14



- ① シンガポール — a
- ② シンガポール — b
- ③ マニラ — a
- ④ マニラ — b

問 4 下線部③について述べた文として波線部の誤っているものを、次の①～④のうちから一つ選べ。 15

- ① ルネサンス期に、重装歩兵の発達によって、騎士が没落した。
- ② 絶対主義(絶対王政)国家では、常備軍が整備された。
- ③ ドイツは、第一次世界大戦で、無制限潜水艦作戦を展開した。
- ④ 第二次世界大戦で、アメリカによって、核兵器が初めて実戦使用された。

世界史 A

B 近世以降の戦争被害の統計的確定を試みた推計によれば、④16世紀から20世紀末までの戦死者は、全世界で合計約4,600万人に上る。そのうち16世紀は3.6%、17世紀は10.3%、⑤18世紀は12.6%、19世紀は7.7%を占め、残る65.8%の戦死者は20世紀に発生している。しかも、20世紀の前半だけで全体の57.6%も占めるのであり、⑥二つの世界大戦がどれほど大きな被害を残したかが分かる。この推計には民間人の戦争被害は含まれていないので、それを加えると、20世紀の重みが一層際立つことになる。

問 5 下線部④の時期に起こった出来事として誤っているものを、次の①～④のうちから一つ選べ。 16

- ① ルターが、「95か条の論題(意見書)」を発表した。
- ② イランで、サファヴィー朝が成立した。
- ③ ナポレオンが、ワーテルローの戦いに敗れた。
- ④ スレイマン1世が、ウィーンを包囲した。

問 6 下線部⑤の時期に起こった戦争について述べた次の文 a と b の正誤の組合せとして正しいものを、下の①～④のうちから一つ選べ。 17

- a プロイセンは、オーストリア継承戦争を戦った。
- b フランスは、アメリカ独立戦争で、イギリスを支援した。

- ① a — 正 b — 正
- ② a — 正 b — 誤
- ③ a — 誤 b — 正
- ④ a — 誤 b — 誤

世界史A

問 7 下線部⑥について述べた文として波線部の正しいものを、次の①～④のうちから一つ選べ。 18

- ① オーストリア帝位継承者夫妻が、ロシア人に暗殺されたことをきっかけに、第一次世界大戦が始まった。
- ② 第一次世界大戦中に、イギリスは、バルフォア宣言でアラブ独立を約束した。
- ③ 第一次世界大戦後に、アメリカ合衆国は、国際連盟に参加しなかった。
- ④ 第二次世界大戦中に、イギリスは、フランスとともに大西洋憲章を発表した。

世界史 A

C ドイツ系住民が多く住んでいたチェコスロヴァキアのズデーテン地方は、1938年の によって、⑦ ドイツ への割譲が決定され、後に⑧ 占領 された。第二次世界大戦後、チェコスロヴァキア政府は、その地のドイツ系住民を国外追放した。その後、1989年にチェコスロヴァキアの体制が転換すると、ドイツでは、追放への謝罪と追放時に没収された財産の返還とを要求する声が高まった。そこで、1997年にドイツとチェコとの間で「和解宣言」が調印されたが、追放された人々の財産補償の課題は残された。現在、チェコとドイツは、同様の難題を抱える⑨ 東欧諸国 とともに、20世紀ヨーロッパの強制移住問題の解決に向けた取り組みを行っている。

問 8 文章中の空欄 に入れる語として正しいものを、次の①～④のうちから一つ選べ。

- ① カルロヴィッツ条約
- ② ベルリン会議
- ③ ポーツマス条約
- ④ ミュンヘン会談

問 9 下線部⑦の国の歴史について述べた文として正しいものを、次の①～④のうちから一つ選べ。

- ① ラダイト(ラッダイト)運動が起こった。
- ② コルベールが、重商主義政策を進めた。
- ③ バグダード鉄道の敷設権を得た。
- ④ 新経済政策(ネップ)を行った。

世界史A

問10 下線部⑧について述べた次の文 a と b の正誤の組合せとして正しいものを、
下の①～④のうちから一つ選べ。 21

- a イギリスは、19世紀後半に、エジプトを占領した。
b ドイツは、第二次世界大戦中、ユーゴスラヴィアを占領した。

- ① a — 正 b — 正
② a — 正 b — 誤
③ a — 誤 b — 正
④ a — 誤 b — 誤

問11 下線部⑨に関連して、18世紀後半にポーランド分割に加わった国の名として正しいものを、次の①～④のうちから一つ選べ。 22

- ① フランス
② ロシア
③ スウェーデン
④ オランダ

世界史A

第3問 世界史上の文化の交流や伝播^{でんぱ}について述べた次の文章A～Cを読み、下の問い(問1～11)に答えよ。(配点 33)

A 紀元前後に西域から伝来していた①仏教は、後漢末以降の社会不安のなかで、②本格的に中国社会に定着した。それまで、出家は、西域からやって来た者にのみ許されていたが、4世紀以降、一般の住民にも認められるようになった。多くの僧が、仏典の漢訳作業に従事し、仏教思想の定着に貢献した。一方で、原典を求めて③インドを訪れ、その体験と見聞を旅行記にまとめた僧もいた。④日本でもよく知られている小説『西遊記』の登場人物、三蔵法師のモデルとされる僧もその一人である。

問1 下線部①について述べた文として正しいものを、次の①～④のうちから一つ選べ。

23

- ① 善悪二神の対立を説いた。
- ② ヴェーダを聖典とした。
- ③ アショーカ王の保護を受けた。
- ④ ヴァルダマーナが創始した。

問2 下線部②に関連して、仏教の伝播について述べた次の文aとbの正誤の組合せとして正しいものを、下の①～④のうちから一つ選べ。

24

- a 大乘仏教は、中国を経て、朝鮮半島に伝わった。
- b 上座部仏教は、日本に広まった。

- ① a — 正 b — 正
- ② a — 正 b — 誤
- ③ a — 誤 b — 正
- ④ a — 誤 b — 誤

世界史A

問 3 下線部③の国における宗教と政治・社会とのかかわりの歴史について述べた次の文 a ~ c が、年代の古いものから順に正しく配列されているものを、下の①~⑥のうちから一つ選べ。 25

- a シク教が成立した。
- b 『マヌ法典』がまとめられた。
- c 全インド=ムスリム連盟が結成された。

- ① a → b → c ② a → c → b ③ b → a → c
- ④ b → c → a ⑤ c → a → b ⑥ c → b → a

問 4 下線部④に関連して、大陸文化の日本への流入について述べた次の文章中の空欄 ア と イ に入れる語の組合せとして正しいものを、下の①~④のうちから一つ選べ。 26

奈良の正倉院には、アの様式を今日に伝えるガラス製の水差しが所蔵されている。そうした西方諸地域の文化を反映する諸文物の多くは、イなどによって、奈良時代に海を渡って、日本にもたらされたものである。

- ① アーササン朝 イー朱印船
- ② アーササン朝 イー遣唐使
- ③ アーアケメネス朝 イー朱印船
- ④ アーアケメネス朝 イー遣唐使

世界史A

B 8世紀に興った⑤アッバース朝の首都バグダードでは、様々な人々が交流を深めるなかで、高度な文明が発展した。半ば廃れていたギリシア科学の文献が、主としてキリスト教徒によってアラビア語に翻訳されたことは、それを象徴する出来事である。⑥ユダヤ教徒も、アッバース朝政府の支援を受けて、イエシヴァ(ユダヤ教学院)を運営していたが、⑦イスラームの思想から大きな影響を受けて、ユダヤ哲学を展開させた。こうした⑧文化交流の場としてのバグダードの地位は、中央・西アジアに支配を広げていたモンゴルがアッバース朝を滅ぼしたことによって、急速に低下した。

問5 下線部⑤の王朝が存続した時期に起こった出来事として正しいものを、次の

①～④のうちから一つ選べ。

- ① ローマ帝国が、東西に分裂した。
- ② ガンダーラ美術が栄えた。
- ③ カール大帝が、ローマ教皇から帝冠を授けられた。
- ④ オスマン帝国が、ビザンツ帝国を滅ぼした。

問6 下線部⑥について述べた次の文中の空欄 と に入れる語の組合せとして正しいものを、下の①～④のうちから一つ選べ。

ユダヤ教徒は、イスラーム王朝の支配下では、イスラーム教以外の他の宗教の信者とともに、ジズヤと呼ばれる とハラージュと呼ばれる を支払わなければならなかった。

- ① アー 通行税 イー 地 租
- ② アー 通行税 イー 十分の一税
- ③ アー 人頭税 イー 地 租
- ④ アー 人頭税 イー 十分の一税

世界史 A

問 7 下線部⑦に関連して、イスラーム文明(イスラーム文化)について述べた文として誤っているものを、次の①～④のうちから一つ選べ。 29

- ① イスラーム教とアラビア語を基に、多文化が融合して発達した。
- ② 独自の絵文字と太陽暦が作られた。
- ③ アラベスクという装飾文様が発達した。
- ④ 医学・天文学などが発展し、近代科学の基礎ともなった。

問 8 下線部⑧に関連して、イスラーム文明(イスラーム文化)などとの交流を経て、イタリアで14世紀に興った文化運動として正しいものを、次の①～④のうちから一つ選べ。 30

- ① ヘレニズム
- ② シュルレアリスム(シュールレアリスム, 超現実主義)
- ③ ジャポニスム
- ④ ルネサンス

世界史 A

C ⑨キリスト教の聖人の一人である聖ヤコブは，9世紀以降，⑩レコンキスタにおけるイスラーム教徒との戦いのなかで，守護聖人として崇敬を集めるようになった。聖ヤコブの墓があるとされたスペインのサンティアゴ＝デ＝コンポステーラには，ヨーロッパ各地から多くの巡礼者が訪れた。聖ヤコブ崇敬は，16世紀以降，⑪イベリア半島出身の征服者たちによって，ラテンアメリカにも持ち込まれ，その結果，この崇敬は被征服民にまで広まった。そして彼らもスペイン人と戦う際に，この聖人に加護を求めた。こうした理由で，聖ヤコブを意味するサンティアゴの名を冠した都市が，スペイン語圏に多いのである。

問 9 下線部⑨に関連して，イエズス会の創始者の名として正しいものを，次の

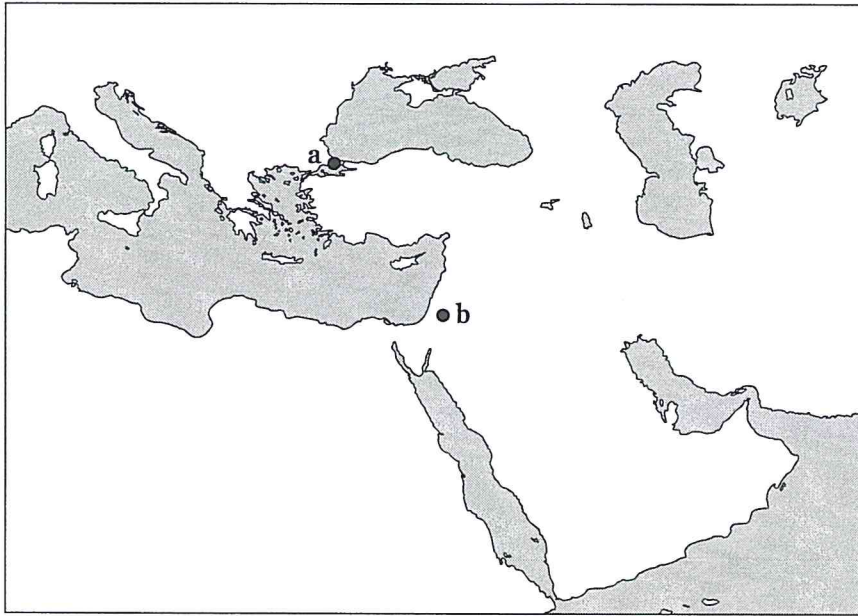
①～④のうちから一つ選べ。

31

- ① イグナティウス＝ロヨラ
- ② カルヴァン
- ③ カスティリオーネ
- ④ ペテロ

世界史 A

問10 下線部⑩に関連して、第1回十字軍がイスラーム勢力から奪回した都市の名と、その位置を示す次の地図中の a または b との組合せとして正しいものを、下の①～④のうちから一つ選べ。 32



- ① コンスタンティノーブル — a ② コンスタンティノーブル — b
③ イエルサレム — a ④ イエルサレム — b

問11 下線部⑪の地域の美術と建築について述べた次の文 a と b の正誤の組合せとして正しいものを、下の①～④のうちから一つ選べ。 33

- a ゴヤは、ナポレオン軍によるスペイン人の処刑を描いた。
b アルハンブラ宮殿は、代表的なイスラーム建築の一つである。

- ① a — 正 b — 正 ② a — 正 b — 誤
③ a — 誤 b — 正 ④ a — 誤 b — 誤

問題と解答は、独立行政法人 大学入試センターホームページより転載しています。
ただし、著作権上の都合により、一部の問題・画像を省略しています。

学校選びのことなら

JS日本の学校[®]

<http://www.js88.com>

塾選びのことなら

JS日本の塾[®]

<http://jyuku.js88.com>