

世界史 B

(解答番号 ~)

第1問 世界史上の帝国の支配とその影響について述べた次の文章A～Cを読み、
下の問い(問1～9)に答えよ。(配点 25)

A ① 2世紀末にコンモドゥス帝が殺害されると、ローマ帝国は内乱状態となっ
ていった。この混乱を収めたのは、ドナウ川流域の属州総督であったセプティミ
ウス＝セウェルスである。彼は、首都ローマを制圧して皇帝となると、帝国各地
や国外へ積極的に遠征した。帝国東部では、皇帝を称していた人物を倒し、さら
に、ユーフラテス川を越えて、② パルティアに攻め込んだ。帝国西北部では、
反旗を翻した有力総督を討ち、その後、③ ブリテン島の北部に遠征した。こう
して、セウェルスは、動揺した帝国を建て直すことに成功したが、一方で、ロー
マ帝国の支配領域の拡大は、周辺勢力との抗争の激化にもつながっていった。

問1 下線部①の時期の出来事について述べた文として正しいものを、次の①～④
のうちから一つ選べ。

- ① ハルシャ＝ヴァルダナが、北インドを統一した。
- ② 赤眉の乱が起こった。
- ③ ローマ帝国で、キリスト教が公認された。
- ④ 大秦王安敦の使者と称する者が、日南郡(現在のベトナム中部)に到着し
た。

問 2 下線部②の国の歴史について述べた文として誤っているものを、次の①～④のうちから一つ選べ。

- ① クテシフォンを都とした。
- ② 中国では、安息と呼ばれた。
- ③ ダレイオス1世の時代に、最盛期を迎えた。
- ④ ササン朝に滅ぼされた。

問 3 下線部③の島の歴史について述べた文として正しいものを、次の①～④のうちから一つ選べ。

- ① ローマが、ポエニ戦争で、一部を属州とした。
- ② アングロ=サクソン人が、ノルマンディー公国を建てた。
- ③ アルフレッド大王が、侵入したアヴァール人と戦った。
- ④ ヘンリ2世が、プランタジネット朝を開いた。

世界史B

B ④ハプスブルク家は、数百年にわたり、ウィーンを中心として、ヨーロッパの広大かつ文化的に多様な地域を支配してきた。20世紀に入り、彼らを君主とする帝国が解体した後も、この都市が持つ輝きは失われず、現在でも多くの⑤旅行者が訪れている。またウィーンには、幾つかの国連機関が拠点を置いているが、それには、オーストリアが1950年代以降、永世中立国であることも関係していた。その首都ウィーンへの国連機関の設置は、⑥冷戦が激しかった時期においては、東西両陣営の理解を得られやすかったのである。

問 4 下線部④の君主の事績について述べた文として正しいものを、次の①～④のうちから一つ選べ。

- ① ヨーゼフ2世は、啓蒙専制君主として、諸改革を推し進めた。
- ② エドワード3世は、フランス王位の継承権を主張して、百年戦争を始めた。
- ③ フリードリヒ2世(大王)は、サン＝スーシ宮殿を建てた。
- ④ フリードリヒ＝ヴィルヘルム1世は、軍備を増強し、絶対王政の基礎を築いた。

問 5 下線部⑤に関連して、旅行に関わる書物について述べた文として正しいものを、次の①～④のうちから一つ選べ。

- ① ミルトンが、『ロビンソン＝クルーソー』を著した。
- ② スウィフトが、『ガリヴァー旅行記』を著した。
- ③ 仏図澄が、『南海寄帰内法伝』を著した。
- ④ 孔穎達が、『仏国記』を著した。

問 6 下線部⑥について述べた文として誤っているものを、次の①～④のうちから一つ選べ。

6

- ① 金日成を首相として、朝鮮民主主義人民共和国の成立が宣言された。
- ② 1949年に、ドイツ民主共和国の成立が宣言された。
- ③ ポツダム会談によって、冷戦が終結した。
- ④ アメリカ合衆国が、トルーマン＝ドクトリンを発表した。

世界史B

- C ⑦ オーストラリアでは、18世紀のイギリス人による入植以来、長らく人口の大半がイギリス系移民とその子孫であった。20世紀後半からは、アジア系移民などの非イギリス系の人々が増加しているが、英語が⑧ 公用語として用いられている。かつてイギリス帝国の⑨ 植民地であった名残やその影響は、言語だけでなく、国家元首がイギリス国王である点や、イギリスから二大政党制と議院内閣制を受け継いでいる点など、政治制度にも見られる。

問 7 下線部⑦に関連して、次の年表に示した a ~ d の時期のうち、オーストラリア連邦が成立した時期として正しいものを、下の①~④のうちから一つ選べ。

7

a

1783年 アメリカ合衆国の独立が承認される

b

1837年 ヴィクトリア女王が即位する

c

1877年 インド帝国が成立する

d

① a

② b

③ c

④ d

問 8 下線部⑧について述べた次の文 a と b の正誤の組合せとして正しいものを、
下の①～④のうちから一つ選べ。 8

- a ビザンツ帝国では、公用語がギリシア語からラテン語となった。
b ムガル帝国では、ペルシア語が公用語として用いられた。

- ① a — 正 b — 正
② a — 正 b — 誤
③ a — 誤 b — 正
④ a — 誤 b — 誤

問 9 下線部⑨に関連して、世界史上の植民地について述べた文として正しいものを、
次の①～④のうちから一つ選べ。 9

- ① ジョゼフ＝チェンバレンが、アメリカ合衆国の植民相(植民地相)となった。
② トゥサン＝ルヴェルチュール(トゥサン＝ルーヴェルチュール、トゥサン＝ルーヴェルテュール)が、アルジェリアで反乱を起こした。
③ ホセ＝リサルが、フィリピンの民族運動を指導した。
④ ネルーが、マレーシアの独立を指導した。

世界史B

第2問 世界史上の港町について述べた次の文章A～Cを読み、下の問い(問1～9)に答えよ。(配点 25)

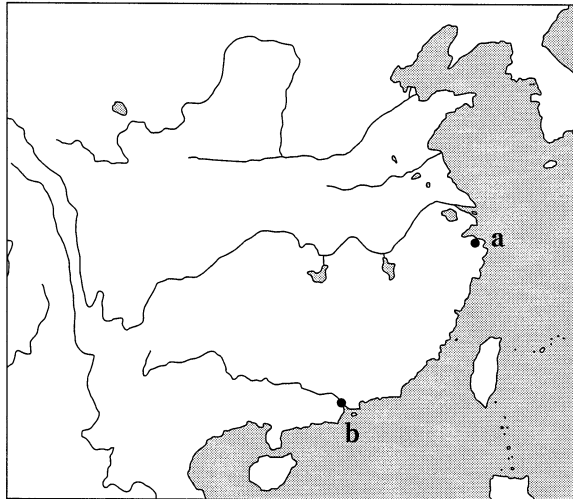
A 泉州は、唐代中頃から、①南海貿易の中心となった②港の一つである。泉州には、様々な出自・信仰を持つ外来商人が住み着いた。ここを拠点に長年にわたって胡椒貿易こしょうに関わった蒲寿庚ほじゆこうも、アラブ系もしくはペルシア系ムスリム商人とされている。元朝は、蒲寿庚の持つムスリム商人の貿易ネットワークを利用して、南海諸国に対し朝貢を勧誘して貿易を促進した。このことは商船の誘致にもつながり、13世紀、泉州は東アジア海域と③インド洋方面との結節点として、繁栄した。

問1 下線部①に関連して、世界史上の交易について述べた文として誤っているものを、次の①～④のうちから一つ選べ。

10

- ① アラム人は、海上交易で活躍した。
- ② ガーナ王国は、金と塩(岩塩)を交換する交易を行った。
- ③ マラッカ王国は、海上交易で栄えた。
- ④ メッカは、隊商交易で栄えた。

問 2 下線部②に関連して、海外貿易で繁栄し、18世紀後半にはヨーロッパ船の貿易港にも指定された都市の名と、その位置を示す次の地図中の **a** または **b** との組合せとして正しいものを、下の①～④のうちから一つ選べ。 11



- | | |
|--------------|--------------|
| ① 広州 — a | ② 広州 — b |
| ③ 寧波(明州) — a | ④ 寧波(明州) — b |

問 3 下線部③に関連して、インド洋交易の拠点となったアフリカ東海岸の港町について述べた次の文 **a** と **b** の正誤の組合せとして正しいものを、下の①～④のうちから一つ選べ。 12

- a** マリンディなどが、ムスリム商人による交易の拠点となった。
b ポンディシェリなどが、フランス東インド会社の拠点となった。

- | | |
|---------|-------|
| ① a — 正 | b — 正 |
| ② a — 正 | b — 誤 |
| ③ a — 誤 | b — 正 |
| ④ a — 誤 | b — 誤 |

世界史B

B 13世紀中頃、④ポルトガルは、大西洋に程近い港町リスボンに首都を移した。15世紀になると、エンリケ航海王子のアフリカ西岸航路開拓を経て、リスボンは海外進出の一大基地として、商業的にも発展した。さらに、16世紀に大西洋航路の開発が進むと、リスボンは、⑤アジア、アフリカ、アメリカにまで広がる世界貿易の拠点となり、地中海貿易の中心地であった⑥イタリアの諸港をしのぐほどの繁栄を見せた(下図参照)。

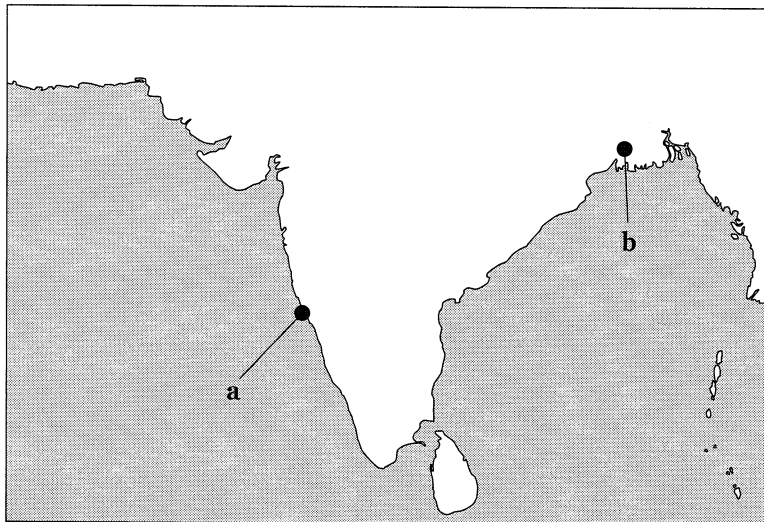
この部分につきましては
著作権処理中の為
現在公開できません

16世紀のリスボン

問4 下線部④の国の歴史について述べた文として正しいものを、次の①～④のうちから一つ選べ。 13

- ① トルデシリヤス条約を締結した。
- ② フォークランド戦争(フォークランド紛争)が起こった。
- ③ カルマル同盟を結成した。
- ④ 第二次世界大戦で、ソ連に占領された。

- 問 5 下線部⑤に関連して、ポルトガルがアジア進出の拠点とした都市の名と、その位置を示す次の地図中の **a** または **b** との組合せとして正しいものを、下の①～④のうちから一つ選べ。 14



- ① ゴア — a
- ② ゴア — b
- ③ カルカッタ(コルカタ) — a
- ④ カルカッタ(コルカタ) — b

- 問 6 下線部⑥の地域の歴史について述べた文として誤っているものを、次の①～④のうちから一つ選べ。 15

- ① ギリシア人が、南部に植民市を建設した。
- ② ランゴバルド王国が成立した。
- ③ メディチ家が、芸術家を保護した。
- ④ ヴィットーリオ＝エマヌエーレ2世が、ローマ進軍を組織した。

世界史B

C アナトリア(小アジア)西部の港町イズミル(スミルナ)は、オスマン帝国の支配下で、17世紀半ば以降、⑦ イラン産生糸やアナトリア産綿花などをヨーロッパへ輸出する拠点として急速に成長した。国際的な一大商業都市に発展したイズミルには、⑧ フランス人、イギリス人などの外国商人が多数居住した。しかし、ヨーロッパとの商取引を支配したのは、オスマン帝国内の非ムスリム商人であり、特にギリシア人は、綿花輸出において中心的な役割を果たした。⑨ オスマン帝国から、ギリシアが独立した後も、ギリシア人は、トルコ共和国成立期に至るまで、イズミルの商業活動の主要な担い手であり続けた。

問 7 下線部⑦に関連して、繊維の原料や製品について述べた文として正しいものを、次の①～④のうちから一つ選べ。

16

- ① 漢代の江南地方で、綿織物業が発展した。
- ② ジョン=ケイが、紡績機の改良を行った。
- ③ アメリカ合衆国南部では、綿花のプランテーションが発達した。
- ④ 18世紀後半に、ナイロン(合成繊維、石油を原料とした人工繊維)が開発された。

問 8 下線部⑧に関連して、ヨーロッパ諸国の通商活動について述べた次の文 a と b の正誤の組合せとして正しいものを、下の①～④のうちから一つ選べ。

17

- a ヴェネツィアは、香辛料などを扱う東方貿易で繁栄した。
 b ヨーロッパ諸国は、オスマン帝国と貿易する商人に、カピチュレーションを与えた。

- ① a — 正 b — 正
 ② a — 正 b — 誤
 ③ a — 誤 b — 正
 ④ a — 誤 b — 誤

問 9 下線部⑨に関連して、次の年表に示した a ～ d の時期のうち、ギリシアがオスマン帝国から独立した時期として正しいものを、下の①～④のうちから一つ選べ。

18

a
1793年 セリム3世が、新軍団を創設する
b
1839年 タンジマート改革が始まる
c
1877年 ロシア＝トルコ戦争(露土戦争)が始まる
d

- ① a ② b ③ c ④ d

世界史B

第3問 世界史上の軍隊について述べた次の文章A～Cを読み、下の問い(問1～9)に答えよ。(配点 25)

A 中世末期から近世初期のヨーロッパ諸国において、軍隊の主力は、戦時に際し臨時に雇用される傭兵^{ようへい}だった。三十年戦争時、神聖ローマ皇帝軍として、スウェーデン国王 **ア** と戦った **イ** の軍隊は、その代表例である。ただし、こうした傭兵の雇用には多額の資金が必要であったため、経済的苦境に陥る君主・諸侯も多かった。その中には、1557年のスペインや①フランスのように、負債支払いを一方向的に停止する例も現れている。それゆえ、諸国は②税制の整備を図る一方で、軍制そのものについても変革を模索するようになる。

問1 文章中の空欄 **ア** と **イ** に入れる語の組合せとして正しいものを、次の①～④のうちから一つ選べ。 **19**

- ① アーミハイル＝ロマノフ イーリシュリュー
- ② アーミハイル＝ロマノフ イーヴァレンシュタイン
- ③ アーグスタフ＝アドルフ イーリシュリュー
- ④ アーグスタフ＝アドルフ イーヴァレンシュタイン

問2 下線部①の国の軍隊の歴史について述べた文として正しいものを、次の①～④のうちから一つ選べ。 **20**

- ① クレシーの戦いで、イギリス軍に勝利した。
- ② クリミア戦争で、ロシア側で参戦した。
- ③ プロイセン＝フランス戦争(普仏戦争)で、プロイセン軍に勝利した。
- ④ ディエンビエンフーの戦いで、敗北した。

問 3 下線部②について述べた文として正しいものを、次の①～④のうちから一つ
選べ。 21

- ① 後ウマイヤ朝では、イクター制が初めて実施された。
- ② 北宋では、賦役黄冊が作成された。
- ③ 植民地インドでは、ザミンダーリー制が運用された。
- ④ 「権利の章典(権利章典)」では、議会の承認なしでも、国王による課税が可能となった。

世界史B

B 東アジアで発明され、ヨーロッパで改良された火器は、16世紀に再び東アジアにもたらされ、軍隊や戦術を大きく変えた。戦国時代の日本では、鉄砲が急速に広まったが、堅固な城壁を持つ③都市が発達していた中国では、ヨーロッパ式大砲も普及した。清(当初は後金)の建国の記録『満洲実録』には、アの軍隊が大砲や小銃などの火器を多数装備している様が描かれている(下図参照)。清側も、アの火器や城塞に対抗するため、主力軍隊であるイの中に、投降した漢人による砲兵部隊を創設した。しかし、野戦ではなお騎兵が有効であり、清と④遊牧国家ジュンガルとの戦争は、騎兵と火器の双方を用いて戦われ

この部分につきましては
著作権処理中の為
現在公開できません

『満洲実録』に描かれたサルフの戦い(1619年)の一場面(左側が後金の騎兵)

問 4 文章中の空欄 **ア** と **イ** に入れる語の組合せとして正しいものを、次の①～④のうちから一つ選べ。 **22**

- ① アー南 宋 イー猛安・謀克
- ② アー南 宋 イー八 旗
- ③ アー明 イー猛安・謀克
- ④ アー明 イー八 旗

問 5 下線部③について述べた文として誤っているものを、次の①～④のうちから一つ選べ。 **23**

- ① アレクサンドリアに、アズハル学院(アズハル大学)が設けられた。
- ② アンコール=トムは、カンボジアのアンコール朝の都城であった。
- ③ ロンドンで、第1インターナショナルが結成された。
- ④ 景德鎮では、陶磁器の生産が盛んであった。

問 6 下線部④について述べた次の文 a～c が、年代の古いものから順に正しく配列されているものを、下の①～⑥のうちから一つ選べ。 **24**

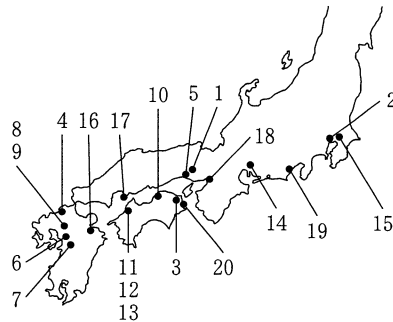
- a 西遼(カラ=キタイ)が、中央アジアで成立した。
- b 突厥が、エフタルを滅ぼした。
- c アッティラが、パンノニアを中心に帝国を建てた。

- ① a → b → c
- ② a → c → b
- ③ b → a → c
- ④ b → c → a
- ⑤ c → a → b
- ⑥ c → b → a

世界史B

C 日本は、⑤第一次世界大戦に参戦し、ドイツが権益を持っていた山東半島の租借地である青島を攻略した。その際、ドイツ帝国及び⑥オーストリア＝ハンガリー帝国の将兵が捕らえられ、日本の各地に收容された(下図参照)。幾つかの收容所では、⑦捕虜たちは、一定の自由が認められ、地元住民と交流した。この交流を通じて、ソーセージやバウムクーヘンといった食品をはじめ、数多くの文化が伝えられた。また、徳島県の板東^{ばんどう}では、ベートーヴェンの「交響曲第9番」が演奏されたことが知られている。

- | | |
|-------|--------|
| 1 青野原 | 11 松山 |
| 2 浅草 | 12 松山 |
| 3 板東 | 13 松山 |
| 4 福岡 | 14 名古屋 |
| 5 姫路 | 15 習志野 |
| 6 高良内 | 16 大分 |
| 7 熊本 | 17 似島 |
| 8 久留米 | 18 大阪 |
| 9 久留米 | 19 静岡 |
| 10 丸亀 | 20 徳島 |



捕虜收容所の所在地

問7 下線部⑤について述べた次の文aとbの正誤の組合せとして正しいものを、下の①～④のうちから一つ選べ。 25

- a 日本は、日英同盟を理由に参戦した。
b アメリカ合衆国は、真珠湾攻撃をきっかけに参戦した。

- ① a — 正 b — 正
② a — 正 b — 誤
③ a — 誤 b — 正
④ a — 誤 b — 誤

問 8 下線部⑥の領域にかつて含まれた国の歴史について述べた文として正しいものを、次の①～④のうちから一つ選べ。 26

- ① オーストリアは、ソ連に併合された。
- ② チェコスロヴァキアは、ミュンヘン会談を経て、解体された。
- ③ ハンガリーは、1920年代に、社会主義国となった。
- ④ ボスニア・ヘルツェゴヴィナは、青年トルコ革命をきっかけに独立した。

問 9 下線部⑦について述べた次の文章中の空欄 ア と イ に入れる語の組合せとして正しいものを、下の①～④のうちから一つ選べ。 27

捕虜の処遇に関する条約は、1899年と1907年の二度にわたって、ア で開催された万国平和会議で取り決められた。1907年の第2回会議には、イ の皇帝である高宗が、密使を送り、日本による保護国化の不当性を訴えようとした。

- ① アージュネーヴ イー清
- ② アージュネーヴ イー韓 国
- ③ アーハーグ イー清
- ④ アーハーグ イー韓 国

世界史B

第4問 世界史上の遊戯(ゲーム・競技)やその^{でんぱ}伝播と受容について述べた次の文章A～Cを読み、下の問い(問1～9)に答えよ。(配点 25)

A 今日のチェス(西洋将棋)の原型となった遊戯は、インドで誕生し、東西に伝わったとされる。この遊戯で用いられる駒は、もともと王・司令官・象・騎兵・①戦車・歩兵を表していたが、伝播先の社会に^{なじ}馴染みの深い身分や役職に変化した。例えば、中世ヨーロッパでは、司令官駒は②女王駒に、象駒は司教駒に、戦車駒は裁判官駒になった。近代になると、チェスは市民層に広まり、20世紀には世界的規模で普及した。今日では、2年に1度、チェスの③オリンピックと呼ばれる国や地域別の対抗団体戦も開催されている。

問1 下線部①について述べた次の文aとbの正誤の組合せとして正しいものを、下の①～④のうちから一つ選べ。

28

- a ヒットایت人は、戦車の使用によって、モンゴル高原に勢力を広げた。
b 第一次世界大戦では、新兵器として戦車(タンク)が用いられた。

- ① a — 正 b — 正
② a — 正 b — 誤
③ a — 誤 b — 正
④ a — 誤 b — 誤

問 2 下線部②に関連して、世界史上の女王について述べた文として正しいものを、次の①～④のうちから一つ選べ。 29

- ① 女王クレオパトラは、テル＝エル＝アマルナに遷都した。
- ② 女王卑弥呼は、北魏から親魏倭王の称号を得た。
- ③ イサベル女王は、カブラルを援助した。
- ④ アン女王の治世下で、大ブリテン(グレートブリテン)王国が成立した。

問 3 下線部③に関連して、近代オリンピックの開催地となった国や都市の歴史について述べた文として波線部の正しいものを、次の①～④のうちから一つ選べ。 30

- ① 第1回大会が開催されたアテネでは、古代にリュクルゴスの下で、民主政が完成した。
- ② 1984年のロサンゼルス大会は、「強いアメリカ」を掲げたブレア政権の下で、開催された。
- ③ 第24回大会が開催されたソウルは、かつて慶州と呼ばれた。
- ④ 2000年のシドニー大会が開催されたオーストラリアでは、先住民はアボリジニ(アボリジニー)と呼ばれている。

世界史B

B 古代の④中国に起源を持つとされるじゃんけんは、現在、世界大会が開かれる⑤競技であり、40以上の国や地域で行われる遊戯となっている。中国から東西に広まったじゃんけんは、拳^{けん}の形やそれが表すものにおいて、共通性が見いだせる。例えば、グー・チョキ・パーの拳の形が、それぞれ石・ハサミ・紙を表している点は、日本・イギリス・ブラジルにおいて共通している。また、じゃんけんの特性として、単純な二項対立の関係ではなく、⑥三者^{けんせい}が牽制し合う関係や、共存する関係が存在することも、指摘できる。

問 4 下線部④の国から伝わった制度や文物について述べた文として誤っているものを、次の①～④のうちから一つ選べ。 31

- ① 羅針盤が、ヨーロッパで改良・実用化された。
- ② 製紙法が、モンゴル軍の遠征によって、イスラーム世界に伝えられた。
- ③ 養蚕の技術が、ビザンツ帝国で取り入れられた。
- ④ 科挙が、朝鮮(李朝)で実施された。

問 5 下線部⑤に関連して、競技や闘技が行われた場について述べた次の文 a と b の正誤の組合せとして正しいものを、下の①～④のうちから一つ選べ。

32

- a ペルセポリスに、コロッセウムが造られた。
- b ネーデルラントで、球戯場の誓いが行われた。

- ① a — 正 b — 正
- ② a — 正 b — 誤
- ③ a — 誤 b — 正
- ④ a — 誤 b — 誤

問 6 下線部⑥に関連して、20世紀以降のアメリカ合衆国が日本・中国と関わった出来事について述べた次の文 a ~ c が、年代の古いものから順に正しく配列されているものを、下の①~⑥のうちから一つ選べ。 33

- a 日本・中国とともに、九か国条約に参加した。
- b ニクソンが訪中した年に、日中国交の正常化がなされた。
- c 日本に対抗して、中国などとともに、「ABCD ライン(ABCD 包囲網)」と呼ばれる政策を採った。

- ① a → b → c
- ② a → c → b
- ③ b → a → c
- ④ b → c → a
- ⑤ c → a → b
- ⑥ c → b → a

世界史B

C 中国で生まれた盤上遊戯である囲碁にまつわる伝承によれば、碁盤は、⑦大地と天体を模倣したものとされる。江戸時代の日本で、囲碁の家元に生まれた安井算哲(渋川春海)が、宣明曆に代えて⑧貞享曆を作成したこともうなずける。また、黒白の碁石を打ち合うシンプルなゲームである囲碁は、文化的背景を異にする者同士でも対局が可能である。⑨長安(現在の西安)を都とする唐に渡った吉備真備が、玄宗の面前で唐の囲碁の名手と対局し、勝利を収めたという説話が伝えられている。20世紀に入ると、日本に活躍の場を求める中国人棋士も現れた。日本人棋士を圧倒した呉清源や林海峯は、その代表的存在である。

この部分につきましては

著作権処理中の為

現在公開できません

唐の名手と囲碁の対局をする吉備真備(碁盤の左側の人物)

問 7 下線部⑦に関連して、歴史上、宇宙を論じた思想や人物について述べた次の文 a と b の正誤の組合せとして正しいものを、下の①～④のうちから一つ選べ。 34

- a 宋学は、宇宙の原理や人間の本質などを探究した。
- b アリスタルコスは、天動説を唱えた。

- ① a — 正 b — 正
- ② a — 正 b — 誤
- ③ a — 誤 b — 正
- ④ a — 誤 b — 誤

問 8 下線部⑧について述べた次の文中の空欄 ア と イ に入れる語の組合せとして正しいものを、下の①～④のうちから一つ選べ。 35

貞享暦は、中国の ア の時代に、 イ によって作られた授時暦を改訂して、日本の実情に合うようにしたものである。

- ① ア — 元 イ — 顧炎武
- ② ア — 元 イ — 郭守敬
- ③ ア — 清 イ — 顧炎武
- ④ ア — 清 イ — 郭守敬

問 9 下線部⑨の都市で起こった歴史上の出来事について述べた文として正しいものを、次の①～④のうちから一つ選べ。 36

- ① 明の洪武帝が、都を置いた。
- ② 長征を終えた中国共産党が、根拠地を置いた。
- ③ 張学良が、蔣介石を捕らえ、抗日を強く迫る事件が起こった。
- ④ 日中戦争の期間中、国民政府が、首都を移した。

問題と解答は、独立行政法人 大学入試センターホームページより転載しています。
ただし、著作権上の都合により、一部の問題・画像を省略しています。